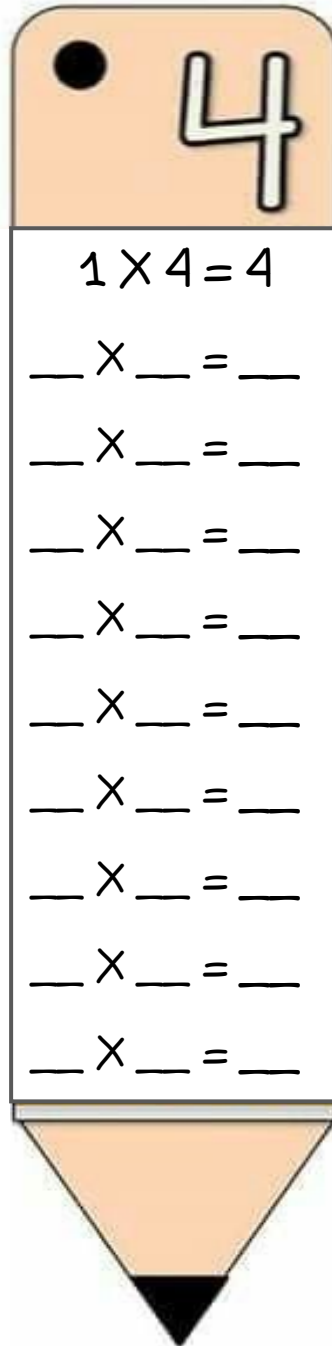
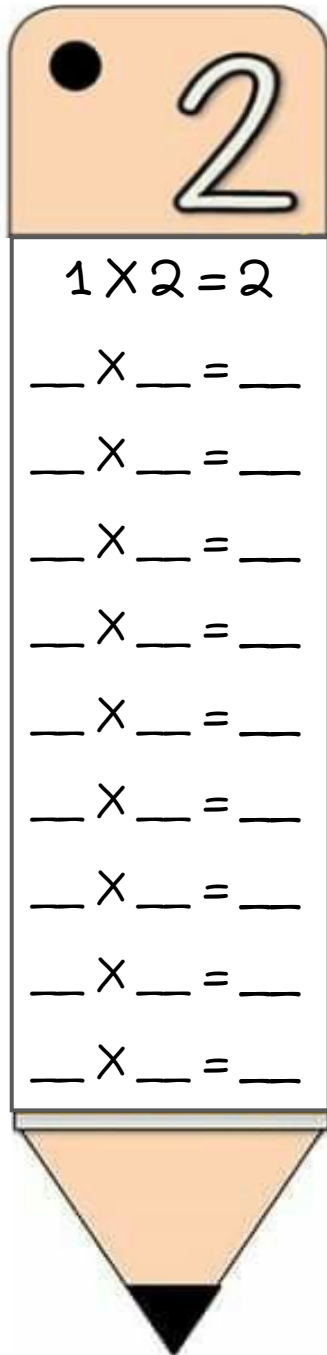


ΟΝΟΜΑ: \_\_\_\_\_

## ΜΑΘΗΜΑΤΙΚΑ 4<sup>η</sup> ΕΝΟΤΗΤΑ

### Κεφ.25 Βρίσκω την προπαίδεια του 2 και του 4

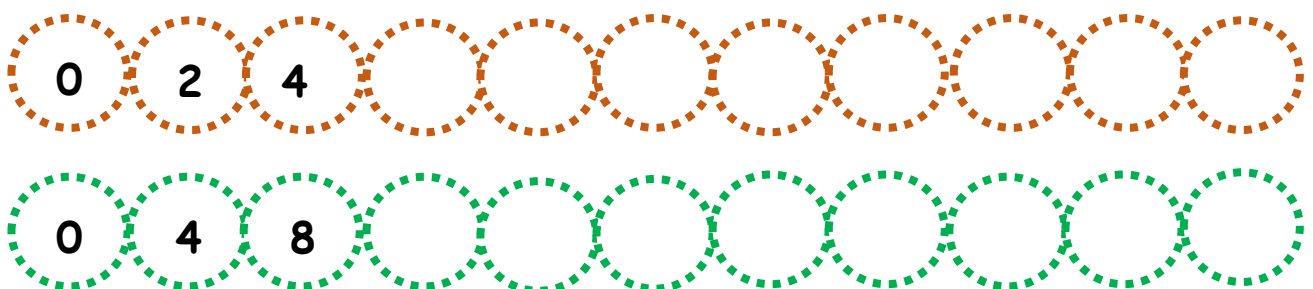
1. Γράφω τις προπαίδειες του 2 και του 4 μέσα στα μολύβια.



Μάθε να λες τις προπαίδειες απ' έξω σαν ποιημάτάκι:  
1 φορά το 2 δύο  
2 φορές το 2 τέσσερα  
...



2. Συμπληρώνω τα παρακάτω μοτίβα με τα αποτελέσματα από τις προπαίδειες.



3. Υπολογίζω τους παρακάτω πολλαπλασιασμούς.

$5 \times 2 = \underline{\quad}$

$2 \times 5 = \underline{\quad}$

$9 \times 2 = \underline{\quad}$

$2 \times 9 = \underline{\quad}$

$7 \times 2 = \underline{\quad}$

$2 \times 7 = \underline{\quad}$

$2 \times 3 = \underline{\quad}$

$3 \times 2 = \underline{\quad}$

$4 \times 10 = \underline{\quad}$

$10 \times 4 = \underline{\quad}$

$4 \times 6 = \underline{\quad}$

$6 \times 4 = \underline{\quad}$

$4 \times 5 = \underline{\quad}$

$5 \times 4 = \underline{\quad}$

$4 \times 4 = \underline{\quad}$

$0 \times 4 = \underline{\quad}$

4. Λύνω τα παρακάτω προβλήματα:


A. Ο Γιώργος έχει 8 αυτοκινητάκια. Ο Αλέξανδρος έχει **διπλάσια** και ο Πέτρος **τετραπλάσια**; Πόσα αυτοκινητάκια έχει ο Αλέξανδρος και πόσα ο Πέτρος;



Υπολογίζω με πολλαπλασιασμό:

Απάντηση: \_\_\_\_\_

B. Το άλογο έχει 4 πόδια. Πόσα πόδια έχουν τα **2 άλογα**; Πόσα πόδια έχουν τα **4 άλογα**;



Υπολογίζω με πολλαπλασιασμό:

Απάντηση: \_\_\_\_\_