

ΟΝΟΜΑ: _____

ΜΑΘΗΜΑΤΙΚΑ 1^η ΕΝΟΤΗΤΑ

Επαναληπτικές ασκήσεις 1 (Κεφ. 1-8)

1. Βρίσκω το αποτέλεσμα των πράξεων.

α) $50 + 10 = \underline{\quad}$

δ) $40 + 40 = \underline{\quad}$

β) $65 - 10 = \underline{\quad}$

ε) $9 + 7 = \underline{\quad}$

γ) $47 + 3 = \underline{\quad}$

στ) $32 - 4 = \underline{\quad}$

2. Βρίσκω τους αριθμούς που λείπουν.

α) $30 + \underline{\quad} = 60$

δ) $70 + \underline{\quad} = 90$

β) $46 + \underline{\quad} = 50$

ε) $25 + \underline{\quad} = 40$

γ) $29 + \underline{\quad} = 34$

στ) $12 + \underline{\quad} = 20$

3. Βρίσκω το αποτέλεσμα.

α) $50 + 10 + 5 = \underline{\quad}$

δ) $75 + 5 + 8 = \underline{\quad}$

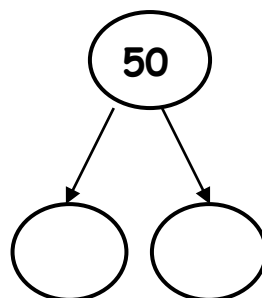
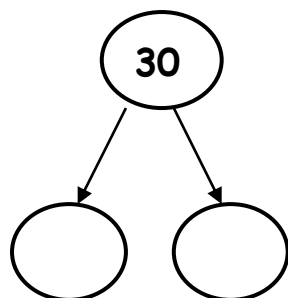
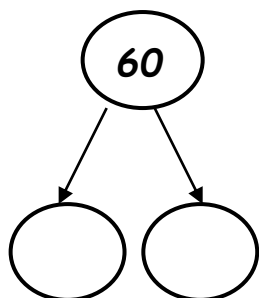
β) $45 - 10 - 1 = \underline{\quad}$

ε) $80 - 10 - 1 = \underline{\quad}$

γ) $59 + 1 + 10 = \underline{\quad}$

στ) $35 - 5 - 4 = \underline{\quad}$

4. Βρίσκω το μισό κάθε αριθμού.



5. Βρίσκω ολόκληρο τον αριθμό.

