


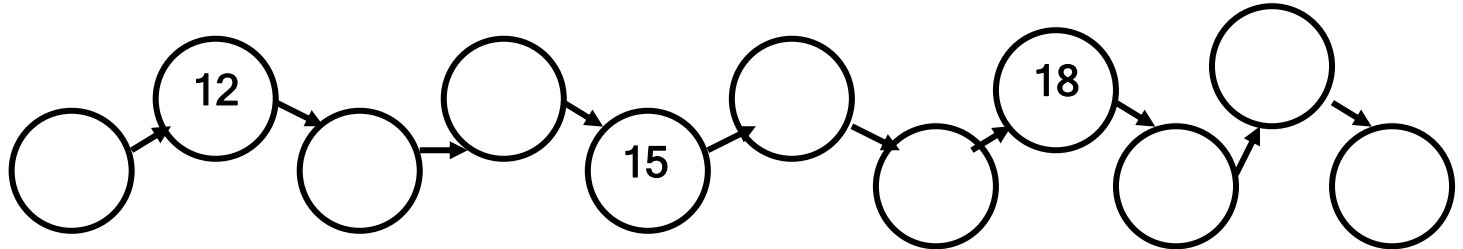
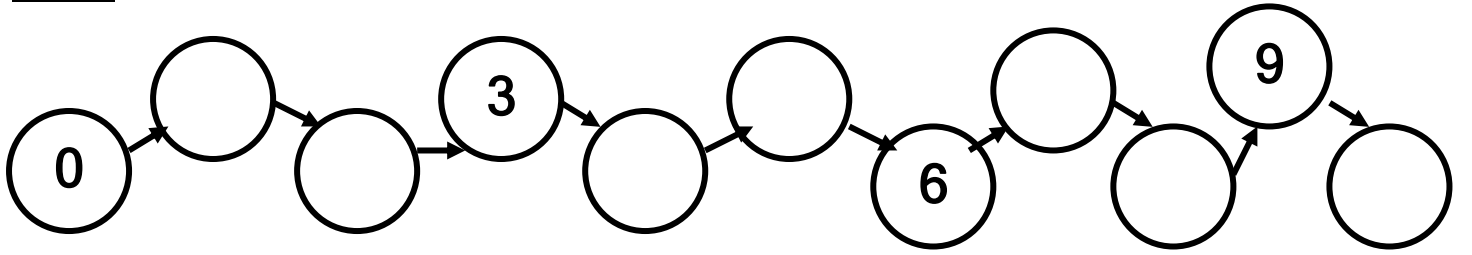
Α' ΔΗΜΟΤΙΚΟΥ  
ΜΑΘΗΜΑΤΙΚΑ  
ΚΑΛΕΣ ΓΙΟΡΤΕΣ !!!



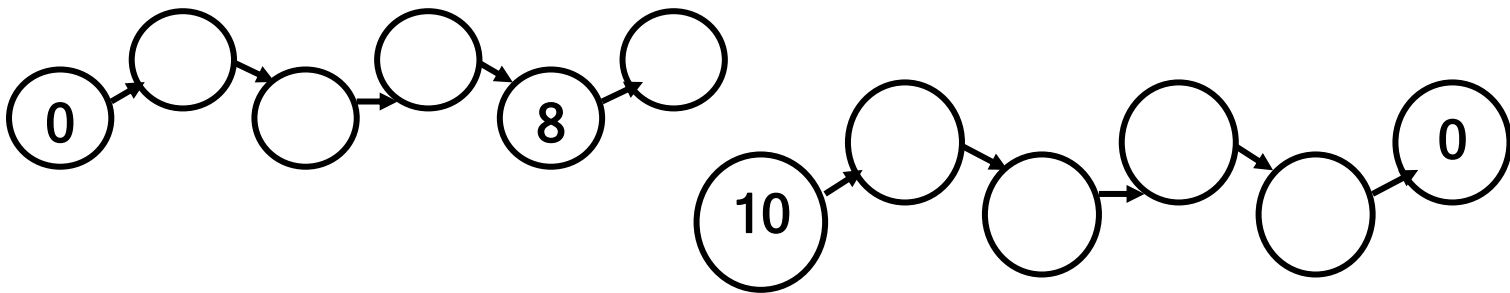
Όνομα : .....

Επίθετο : .....

1. Συμπληρώνω τους αριθμούς που λείπουν από το 0 ως το 20, μετρώντας ένα - ένα :



2. Συμπληρώνω τους αριθμούς που λείπουν από το 0 ως το 10 και από το 10 ως το 0, μετρώντας δύο - δύο :



3. Συμπληρώνω το σύμβολο ( $>$ ,  $=$ ,  $<$ ) ή τον αριθμό που ταιριάζει :

$8 \underline{\quad} 6$

$7 \underline{\quad} 4 + 3$

$1 \underline{\quad} 0$

$2 \underline{\quad} 4$

$5 \underline{\quad} 3 + 2$

$3 \underline{\quad} 4 + 4$

$10 \underline{\quad} 9$

$9 \underline{\quad} 1 + 3$

$2 \underline{\quad} 2 + 2$

$7 \underline{\quad} 4$



$2 < \underline{\quad}$

$4 > \underline{\quad}$

$8 < \underline{\quad}$

$9 = \underline{\quad}$

4. Γράφω τους αριθμούς που είναι πριν και μετά ή ανάμεσα:

\_\_\_\_\_ 13 \_\_\_\_\_

\_\_\_\_\_ 1 \_\_\_\_\_



10 \_\_\_\_\_ 12

\_\_\_\_\_ 4 \_\_\_\_\_

\_\_\_\_\_ 12 \_\_\_\_\_

2 \_\_\_\_\_ 4

\_\_\_\_\_ 5 \_\_\_\_\_

\_\_\_\_\_ 8 \_\_\_\_\_

15 \_\_\_\_\_ 17

\_\_\_\_\_ 6 \_\_\_\_\_

\_\_\_\_\_ 19 \_\_\_\_\_

8 \_\_\_\_\_ 10

5. Συμπληρώνω τον αριθμό που λείπει :

$1 + \underline{\quad} = 2$

$2 + \underline{\quad} = 7$

$3 + 1 = \underline{\quad}$

$\underline{\quad} + 2 = 10$

$3 + \underline{\quad} = 5$

$0 + \underline{\quad} = 8$

$4 + 1 = \underline{\quad}$

$\underline{\quad} + 0 = 6$

$4 + \underline{\quad} = 4$

$2 + \underline{\quad} = 9$

$4 + 0 = \underline{\quad}$

$\underline{\quad} + 2 = 8$

6. Υπολογίζω τις παρακάτω πράξεις :

$5 + 2 = \underline{\quad}$

$3 + 2 = \underline{\quad}$

$5 + 0 = \underline{\quad}$

$3 + 3 = \underline{\quad}$

$6 + 2 = \underline{\quad}$

$10 + 0 = \underline{\quad}$

$6 + 4 = \underline{\quad}$

$2 + 2 = \underline{\quad}$

$4 + 0 = \underline{\quad}$

$7 + 2 = \underline{\quad}$

$9 + 1 = \underline{\quad}$

$1 + 4 = \underline{\quad}$

$6 + 1 = \underline{\quad}$

$8 + 1 = \underline{\quad}$

$5 + 5 = \underline{\quad}$

$$\begin{array}{r} 1 \\ + 3 \\ \hline \square \end{array}$$

$$\begin{array}{r} 6 \\ + 0 \\ \hline \square \end{array}$$


$$\begin{array}{r} 7 \\ + 3 \\ \hline \square \end{array}$$

$$\begin{array}{r} 4 \\ + 2 \\ \hline \square \end{array}$$

$$\begin{array}{r} 1 \\ + 2 \\ \hline \square \end{array}$$

$$\begin{array}{r} 5 \\ + 4 \\ \hline \square \end{array}$$

7. Λύνω τις προσθέσεις και χρωματίζω ανάλογα με το αποτέλεσμα :



6 = κόκκινο

8 = κίτρινο

7 = μαύρο

9 = γαλάζιο

Χρόνια πολλά