


ΟΝΟΜΑ: _____



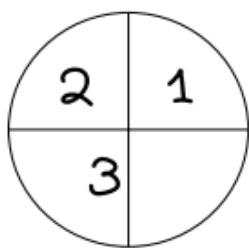
ΜΑΘΗΜΑΤΙΚΑ 4^η ΕΝΟΤΗΤΑ

Κεφ. 31 Συμπλήρωμα

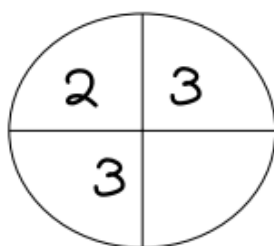
1. Χρωματίζω τα μήλα που έχουν άθροισμα ίσο με το 10.



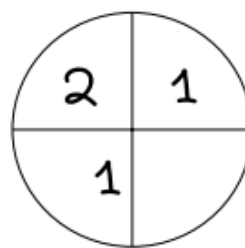
2. Συμπληρώνω τον αριθμό που λείπει.



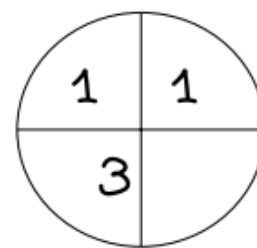
Όλα είναι 8.



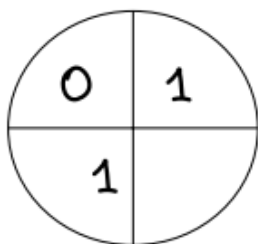
Όλα είναι 10.



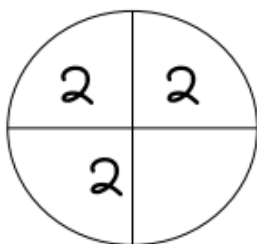
Όλα είναι 7.



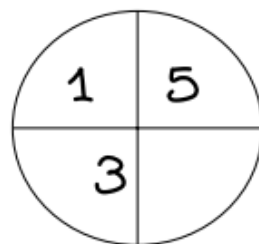
Όλα είναι 9.



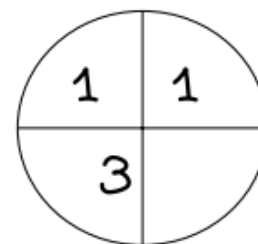
Όλα είναι 4.



Όλα είναι 8.



Όλα είναι 10.



Όλα είναι 5.

3. Υπολογίζω και συμπληρώνω τους αριθμούς που λείπουν.

$10 + \dots = 10$

$0 + \dots = 10$

$6 + \dots = 10$

$4 + \dots = 10$

$3 + \dots = 10$

$7 + \dots = 10$

$8 + \dots = 10$

$2 + \dots = 10$

$1 + \dots = 10$

$9 + \dots = 10$

$5 + \dots = 10$

$4 + \dots = 8$